

AMCC



За безбедан пут
и миран сан
постаните члан!



ТАКМИЧЕЊЕ УЧЕНИКА ОСНОВНИХ ШКОЛА РЕПУБЛИКЕ СРБИЈЕ “ШТА ЗНАШ О САОБРАЋАЈУ”

ДН ОС



1. Возач бицикла са мотором креће се у ситуацији на слици:
 - а) прописно уз десну ивицу коловоза
 - б) прописно средином саобраћајне траке
 - ц) путем на коме је његово кретање забрањено

4

2. Саобраћајном траком за принудно заустављање возила:
 - а) смеју се кретати само бицикли и бицикли са мотором
 - б) смеју се кретати: бицикли, бицикли са мотором, трактори и мотокултиватори
 - ц) забрањено је кретање возила

3




3. Путнички аутомобил скреће улево у ситуацији на слици:
 - а) прописно, из одговарајуће саобраћајне траке
 - б) скретање треба да изврши из крајње леве саобраћајне траке
 - ц) скретање треба да изврши из десне саобраћајне траке

3

4. Приликом скретања улево на истој слици, путнички аутомобил прописно скреће ако скретање врши у:
 - а) крајњу леву саобраћајну траку
 - б) средњу саобраћајну траку
 - ц) крајњу десну саобраћајну траку

4



5. Ако се на коловозу са две саобраћајне траке заустави возило намењено за превоз деце (аутобус), обележено знаком за превоз деце, дужно је да се заустави:
 - а) возило које се креће иза тог возила (аутобуса)
 - б) возило које се креће супротном саобраћајном траком
 - ц) и једно и друго возило

4

6. Деца која улазе и излазе из аутобуса у ситуацији на слици, крећу се посебно уређеном саобраћајном површином намењеном за кретање пешака, која се назива:
 - а) коловозна трака
 - б) тротоар
 - ц) саобраћајна трака

3


7. Бициклом са мотором у саобраћају може управљати:
 - а) лице које је навршило 14 година живота
 - б) лице које је навршило 16 година живота
 - ц) лице које је навршило 14 година и положило испит из познавања саобраћајних прописа

3



8. Заштитну кацигу морају да носе за време возње на путу:

- а) само возач мотоцикла **3**
 б) возач мотоцикла или бицикла са мотором
 ц) возач мотоцикла или бицикла са мотором и лица која се превозе тим возилима



9. Аутобус се укључује у саобраћај са стајалишта и том приликом:

- а) има првенство у односу на путничко возило које га обилази **3**
 б) дужан је да пропусти возило које га обилази

10. Путници који су изашли из аутобуса на станици:

- а) смеју да пређу преко коловоза испред аутобуса
 б) смеју да пређу преко коловоза иза аутобуса
 ц) не смеју прелазити ни испред ни иза аутобуса који стоји на стајалишту **3**



11. Путнички аутомобил претиче мотоцикл у ситуацији на слици:

- а) прописно
 б) непрописно
 ц) непрописно, јер му је претицање забрањено правилима саобраћаја **3**

12. Саобраћајни знак о ограничењу брзине, на истој слици, важи за:

- а) возаче мотоцикла и путничког аутомобила
 б) возача трактора
 ц) за возаче трактора, мотоцикла и путничког аутомобила **2**



13. Путнички аутомобил, у ситуацији на слици, претиче други путнички аутомобил:

- а) прописно
 б) непрописно
 ц) прописно ако нема возила из супротног смера .. **3**

14. Крајњом левом саобраћајном траком на истој слици:

- а) смеју се кретати возила у истом смеру
 б) не смеју се кретати возила у истом смеру, јер је трака намењена за кретање возила из супротног смера **3**




15. Путнички аутомобил претиче други путнички аутомобил, у ситуацији на слици, на месту где му је претицање:

- а) забрањено ознакама на коловозу
 б) дозвољено **3**
 ц) забрањено правилима саобраћаја


16. У ситуацији на истој слици превенство пролаза у раскрсници са кружним током саобраћаја је:

- а) посебно регулисано
 б) није посебно регулисано **3**
 ц) увек се регулише саобраћајним знаковима



17. Возило под пратњом nailazi на обележени пешачки прелаз преко кога прелази организована колона пешака и у тој ситуацији:
- a) дужна су да се зауставе и пропусти организовану колону пешака
- b) има право пресецања колоне пешака 4
- c) првенство пролаза имају пешаци

18. Када су на задатку на ова возила се одредба о пресецању колоне пешака:
- a) примењује
- b) не примењује 3
- c) није регулисано законом



19. Возач мотоцикла скреће удесно и у ситуацији на слици:
- a) има првенство пролаза у односу на аутобус 3
- b) дужан је да пропусти аутобус

20. У ситуацији на слици, возач мотоцикла приликом скретања удесно:
- a) дужан је да пропусти пешака
- b) има првенство пролаза у односу на пешака, јер има зелену додатну стрелицу на семафору 3

21. Бицикличком стазом или траком могу да се крећу:
- a) само бицикли
- b) бицикли и бицикли са мотором 3
- c) бицикли, бицикли са мотором и пешаци




22. Подигнута вертикално рука у вис полицајца који регулише саобраћај значи:
- a) слободан пролаз за учеснике у саобраћају који долазе са његових бочних страна
- b) обавезно заустављање за сва возила 3
- c) забрањен пролаз за возила која му долазе са предње или са задње стране



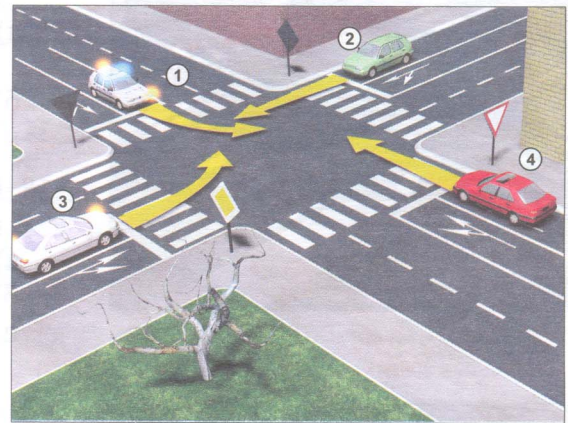
23. У ситуацији на слици, црвени путнички аутомобил обилази други путнички аутомобил који се зауставио испред пешачког прелаза:
- a) прописно 3
- b) непрописно

24. На истој слици, пешак је започео прелажење преко обележеног пешачког прелаза и том приликом:
- a) дужан је да пропусти само црвени путнички аутомобил
- b) дужан је да пропусти оба путничка аутомобила 3
- c) има првенство пролаза

25-26. У поља испод слике упиши бројеве који се налазе поред возила по редоследу проласка кроз раскрсницу:



| | | | | | | |
|--|--|--|--|--|--|---|
| | | | | | | 4 |
|--|--|--|--|--|--|---|



| | | | | |
|--|--|--|--|---|
| | | | | 4 |
|--|--|--|--|---|

27. У поља испод сваког саобраћајног знака уписати редни број испред описа његовог значења:


 2

 1

 1

 2

 2

 2

 2

 2

 2

 1

1. Пут са првенством пролаза
2. Укрштање главног са споредним путем под правим углом
3. Обавезан смер
4. Забрана саобраћаја за бицикле
5. Пружање пута са правом првенства пролаза
6. Украштање са путем са првенством пролаза

7. Забрана саобраћаја у оба смера
8. Спајање главног са споредним путем под правим углом с леве стране
9. Стаза за бициклисте
10. Дозвољени смерови
11. Забрана саобраћаја у једном смеру
12. Обавезно заустављање

НАШИ ПРИЈАТЕЉИ!

(Стартни број, име и презиме)

(назив школе)

100 - =

Негативних Поена УКУПНО Поена



CIP - Каталогизација у публикацији Народна библиотека Србије, Београд

ISBN: 978-86-7514-030-6
COBISS.SR-ID 128269324